



## Diagnozy i samokontrolne klas II

<b>Tytuł</b>	<b>Temat zajęć: Ciepłej czy zimniej ?</b>
<b>Autor</b>	<b>Małgorzata Urbańska</b>
<b>Cel</b>	<b>Umiejętność odczytywania wskazań termometru.</b>

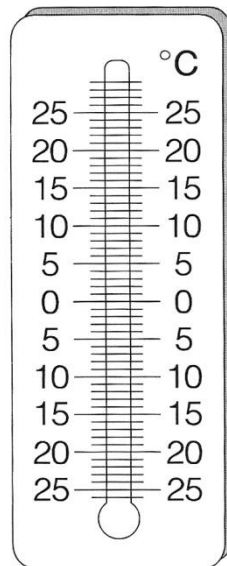
1. Zaznacz temperaturę długopisem. uważasz, że jest zimno pokoloruj termometr na niebiesko, ciepło- na czerwono.



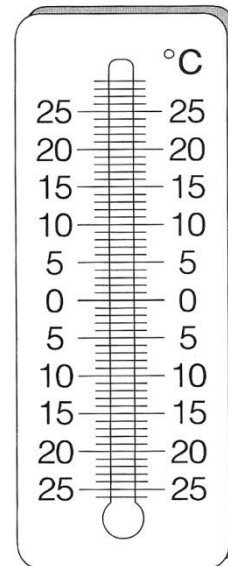
20°C



5°C




15°C




0°C

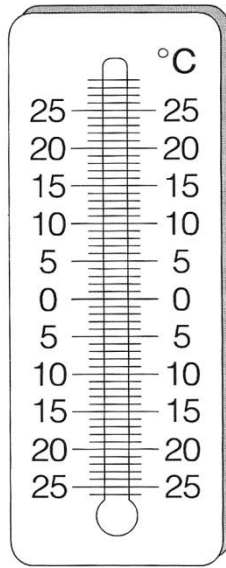
---



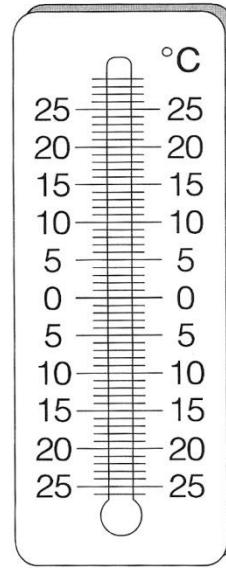
11°C



2°C

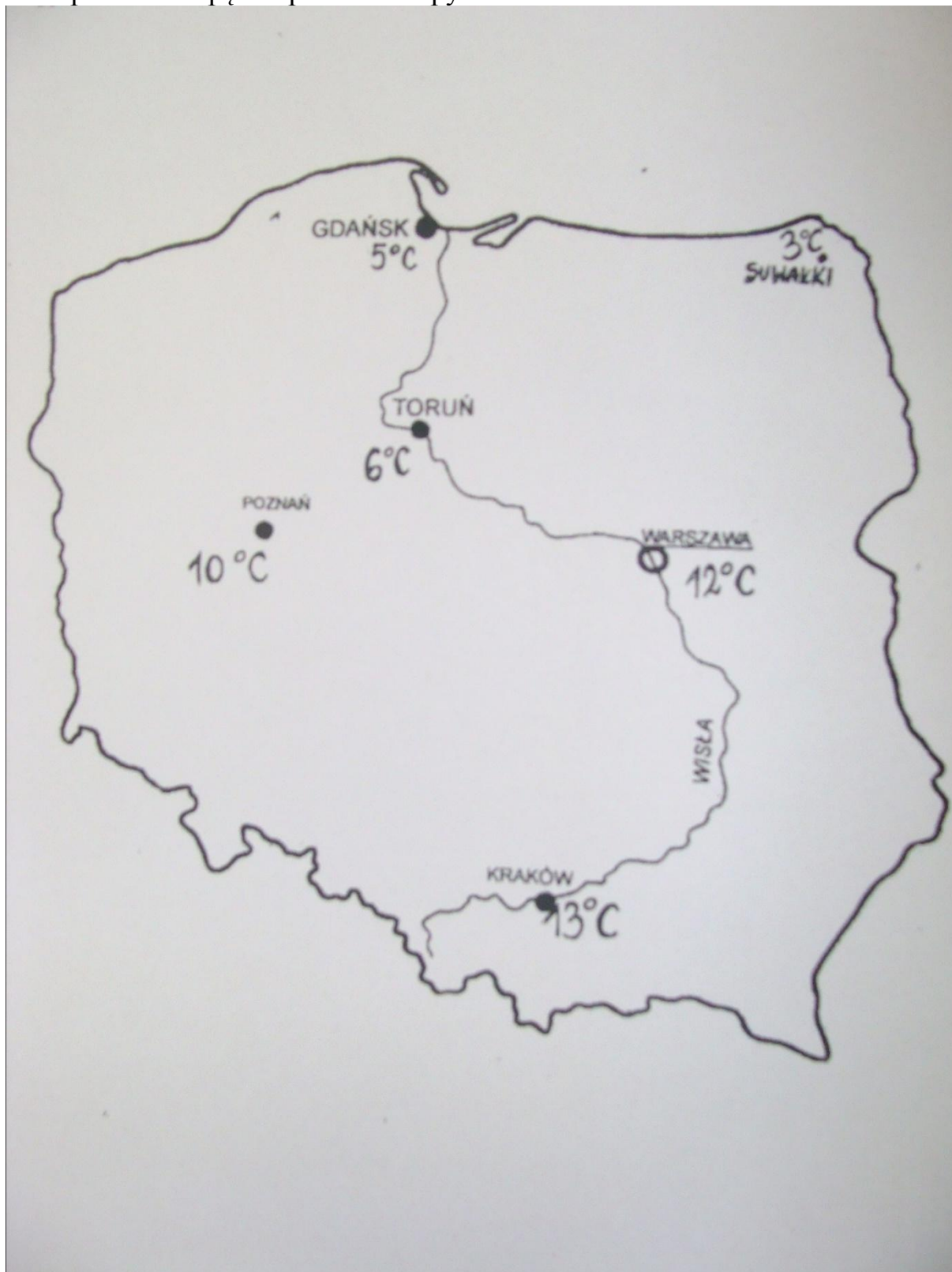


7°C



25°C

2. Popatrz na mapę i odpowiedz na pytania :



- Gdzie jest najniższa temperatura?

.....  
.....  
.....

- Jaka jest różnica temperatury w Toruniu i w Krakowie ?

.....  
.....  
.....

- W Suwałkach są 3 stopnie Celsjusza, w Poznaniu jest o 7 stopni wyższa temperatura. Jaka jest temperatura w Poznaniu ?

.....  
.....  
.....